

Période 1

Semaine 1



1

Pour faire son trajet de Rennes à Saint Malo, Alice parcourt 54 km entre Rennes et Dinan, puis 31 km entre Dinan et Saint Malo.

Combien de km a-t-elle parcourus en tout ?

SCHEMA

54	31

CALCULS

Alice a parcouru km en tout.

2

Cette année Agathe a dépensé 95 € en tout pour la rentrée. Elle a dépensé 50 € pour la papeterie et le reste lui a servi à acheter des manuels.

Quel a été le montant total d'achat des manuels ?

SCHEMA

	95
50	

CALCULS

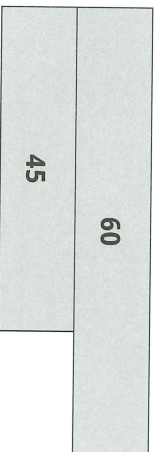
Les manuels ont coûté € en tout.

Prénom :

Date :

3


Un sylviculteur a planté 60 arbres pour renouveler sa parcelle.
Il a planté 45 douglas et pour le reste il s'agit d'épicéas.
Combien d'épicéas a-t-il plantés ?

SCHEMA**CALCULS**

Il a planté épicéas.

4

Cette semaine, la cantine a servi 55 repas pour les élèves de maternelle et 35 repas pour les élèves d'élémentaire.
Combien de repas ont été servis en tout ?

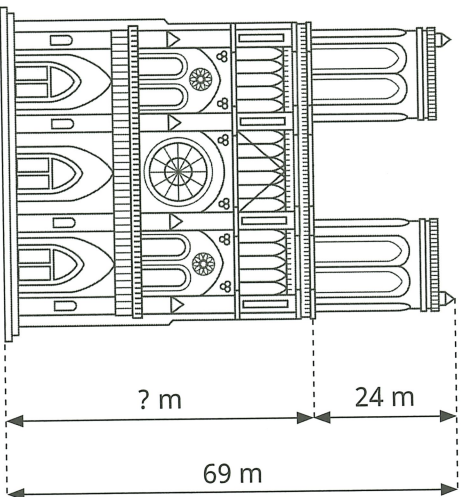
SCHEMA**CALCULS**

La cantine a servi repas en tout.

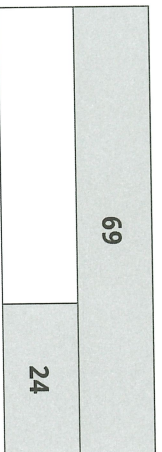


5

Quelle serait la hauteur de la cathédrale Notre-Dame de Paris sans les tours ?



SCHEMA



CALCULS

Sans les tours, la hauteur de la cathédrale Notre-Dame de Paris

serait de m.

Prénom :

Date :

6 Observe la liste des ingrédients pour faire 1 gâteau au yaourt
et complète la liste des ingrédients nécessaires pour en faire 2.

Pour 1 gâteau	Pour 2 gâteaux
3 pots de farine pots de farine
2 pots de sucre pots de sucre
1 yaourt yaourts
2 œufs œufs

CALCULS



Période

1

Semaine 2

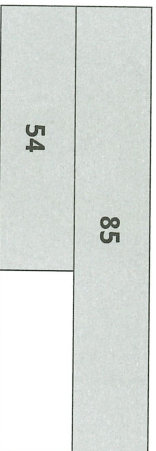


1

Pour faire son trajet de Rennes à Saint-Malo, Alice parcourt 85 km en tout. Elle parcourt d'abord 54 km entre Rennes et Dinan puis elle va de Dinan à Saint-Malo.

Combien de km parcourt-elle entre Dinan et Saint-Malo ?

SCHEMA



CALCULS

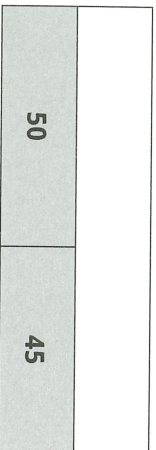
Entre Dinan et Saint-Malo, Alice parcourt km.

2

Pour la rentrée, Agathe a dépensé 50 € pour la papeterie et 45 € pour acheter des manuels.

Quel montant total a-t-elle dépensé ?

SCHEMA



CALCULS

Agathe a dépensé € en tout.

Prénom :


Date :

3

Pour renouveler sa plantation de pins, un sylviculteur a planté 45 douglas et 15 épicéas.

Combien de pins a-t-il plantés en tout ?

SCHEMA



CALCULS

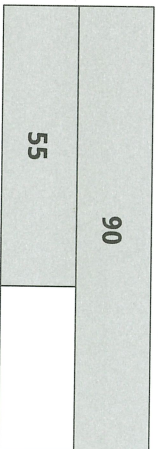
Il a planté pins en tout.

4

Cette semaine, la cantine a servi 90 repas en tout, dont 55 pour les élèves de maternelle.

Combien de repas ont été servis aux élèves de l'élémentaire ?

SCHEMA



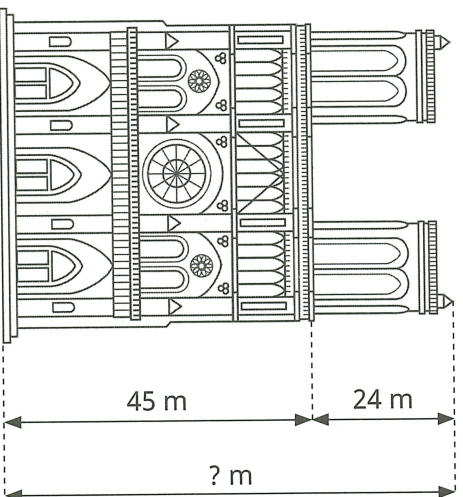
CALCULS

..... repas ont été servis aux élèves de l'élémentaire.




5

Quelle est la hauteur totale de la cathédrale Notre-Dame de Paris ?



SCHEMA



CALCULS

La cathédrale Notre-Dame de Paris mesure m de haut.

Prénom :

Date :

6 Observe la liste des ingrédients pour faire 2 gâteaux au yaourt et complète la liste des ingrédients nécessaires pour en faire 1 seul.

Pour 1 gâteau	Pour 2 gâteaux
..... pots de farine	6 pots de farine
..... pots de sucre	4 pots de sucre
..... yaourt	2 yaourts
..... œufs	4 œufs

CALCULS

